

Итоговая работа по технологии 8 кл. (девочки)

Отметьте знаком « + » правильный ответ

1. В рамках предмета «Технология» в 8 классе изучаются:

- а) технологии ведения бизнеса
- б) технология машинной обработки металлов
- в) электротехника

2. Какое из нижеуказанных положений даёт правильное научное определение: «Семейный бюджет»

- а) семейный бюджет - это специальная банковская карточка позволяющая семье накопить средства для крупных покупок
- б) семейный бюджет – это финансовый план, который учитывает и сопоставляет все доходы и расходы семьи за определённый период
- в) семейный бюджет – это финансовый документ, который заносится все доходы семьи за определённый период

3. Сбалансированный бюджет семьи это:

- а) бюджет, где расходы равны доходам
- б) бюджет, где расходы превышают доходы
- в) бюджет, где доходы превышают расходы
- г) все определения верны

4. Какие из этих групп расходов семейного бюджета являются основными?

- а) постоянные и переменные
- б) постоянные
- в) временные
- г) все виды групп расходов

5. Что из нижеперечисленных аспектов не входит в структуру бизнес-плана при его написании?

- а) резюме
- б) автобиография
- в) виды товаров и услуг
- г) конкуренция

6. Как уже Вам известно, любая нагрузка в электрической цепи обладает рядом параметров. Какие из нижеперечисленных параметров являются основными при эксплуатации электрической цепи?

- а) сопротивление, мощность
- б) сопротивление, напряжение, мощность
- в) мощность

7. Как правильно называется закон, регулирующий отношения между производителями и потребителями товаров и услуг, защищающий права тех, кто покупает товары?

- а) Закон «О защите прав производителей».
- б) Закон «О защите прав покупателей».
- в) Закон «О защите прав потребителей».

8. Инженерные коммуникации в доме это:

- а) совокупность устройств, приборов, оборудования которые обеспечивают подачу воды в жилище, и удаления сточных вод
- б) совокупность устройств, приборов, оборудования которые обеспечивают комфортные условия жизнедеятельности человека в его жилище, в помещениях для работы, для отдыха, развлечений
- в) совокупность приборов, которые обеспечивают безопасную подачу газо- и электроснабжения в жилище человека

9. Какой из нижеперечисленных электрических схем руководствуется электромонтажник при сборке электротехнической цепи?

- а) принципиальной электрической схемой
- б) монтажной электрической схемой
- в) простейшей принципиальной электрической схемой в виде условных знаков

10. Какая из нижеперечисленных трактовок наиболее правильно даёт определение: что такое предпринимательство (бизнес) ?

- а) деятельность человека, который, владея какими-либо материальными и ценностями, производит товары и услуги

- б) инициативная деятельность человека, который, владея какими-либо материальными и интеллектуальными ценностями, создаёт товары, и услуги для населения с целью получения прибыли
- в) наиболее эффективный способ пополнения семейного бюджета

11. Какие организационно-правовые формы предпринимательской деятельности сегодня существуют в РФ?

- а) Индивидуальное предприятие
- б) Товарищество
- в) Акционерное общество
- г) Все вышеперечисленные организационно-правовые формы предпринимательской деятельности.

12. Какая из нижеперечисленных типов ламп на сегодняшний день является наиболее эффективным низковольтным осветительным электроприбором?

- а) люминесцентная лампа
- б) лампа накаливания
- в) светодиодная лампа
- г) галогенная лампа

13. Какой из нижеперечисленных документов является важнейшим источником информации об избираемой профессии?

- а) рекламный буклет
- б) профессиограмма
- в) памятка


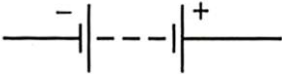
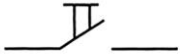
14. Как в электротехнике называют устройство, где электрическая энергия преобразуется в другие виды энергии?



- а) приемником
- б) нагрузкой
- в) потребителем
- г) можно использовать любое из этих названий

15. Какими из ниже приведённых критериев должен руководствоваться молодой человек при выборе профессии, что бы сделать правильный выбор?


- а) выбрать профессию, которая востребована на рынке труда
- б) выбрать профессию, которая доступна и посильна для вас, что бы овладеть и заниматься ею
- в) выбрать профессию, которая востребована на рынке труда, должна быть доступной и посильной для вас, что бы овладеть и заниматься ею, способной приносить радость, удовлетворение.

16. С помощью стрелки правильно сопоставьте название элементов электрической цепи с их изображением в виде условных знаков на электрической схеме.

№п/п	Название элемента	Условное изображение элемента на электрической схеме
1	Кнопочный выключатель	
2	Электрическая лампа накаливания	
3	Соединение проводов	

4	Батарея гальванических элементов	
5	Катушка с железным сердечником	

17. Под каким номером в этой таблице изображен в виде условного знака на принципиальной электрической схеме проводник, обладающий электрическим сопротивлением?



18. С какого возраста, и на каких, условиях, закон РФ «О предпринимательской деятельности» разрешает несовершеннолетним заниматься предпринимательской деятельностью?

- а) С 16 лет, не получая согласия родителей.
- б) С 18 лет, если они получают согласие родителей.
- в) В возрасте 16 - 18 лет, если они получают согласие родителей и будут признаны полностью дееспособными.

19. Какие из нижеперечисленных нагревательных элементов нашли наиболее широкое применение в различных современных бытовых электронагревательных приборах?

- а) нагревательные элементы закрытого типа
- б) трубчатые герметизированные нагревательные элементы
- в) нагревательные элементы открытого типа

20. Как по назначению называются электрические провода, которые используют для внутреннего монтажа при сборке электрических приборов, аппаратов, агрегатов?

- а) обмоточные провода
- б) установочные провода
- в) монтажные провода